

Sada diagramů č. 12c - Zadání 14. 1. 2016 / Kontrola 21. 1. 2016

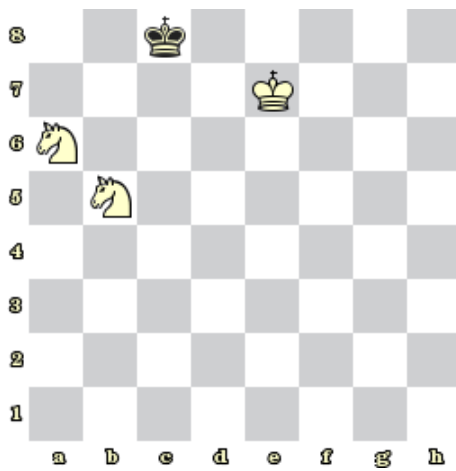


Diagram 1 – Bílý na tahu dá mat 1. tahem




Diagram 2- Bílý na tahu dá mat 1. tahem



Diagram 3 - Bílý na tahu dá mat 1. tahem




Diagram 4 – Bílý na tahu dá mat 1. tahem




Diagram 5 – Bílý na tahu dá mat 1. tahem



Diagram 6 – Bílý na tahu dá mat 1. tahem



Diagram 7 - Bílý na tahu dá mat 1. tahem



Diagram 8 – Bílý na tahu dá mat 1. tahem

### Bonusové diagramy




Diagram 9 – Bílý na tahu dá mat 2. tahem




Diagram 10 – Bílý na tahu dá mat 2. tahem