

Sada diagramů č. 17b – Odlákání / přetížená figura

Zadání 3. 3. 2016 / Kontrola 10. 3. 2016



Diagram 1 – Bílý na tahu vyhraje



Diagram 2 – Černý na tahu vyhraje




Diagram 3 – Bílý na tahu vyhraje




Diagram 4 – Černý na tahu vyhraje




Diagram 5 – Bílý na tahu vyhraje




Diagram 6 – Bílý na tahu vyhraje




Diagram 7 – Černý na tahu vyhraje



Diagram 8 – Bílý na tahu vyhraje

Bonusové diagramy




Diagram 9 – Bílý na tahu. Najděte matový útok




Diagram 10 – Bílý na tahu. Najděte matový motiv