

Sada diagramů č. 18c - Zadání 10. 3. 2016 / Kontrola 17. 3. 2016




Diagram 1 – Bílý na tahu dá mat 1. tahem




Diagram 2 – Černý na tahu dá mat 1. tahem



Diagram 3 – Bílý na tahu dá mat 1. tahem




Diagram 4 – Černý na tahu dá mat 1. tahem

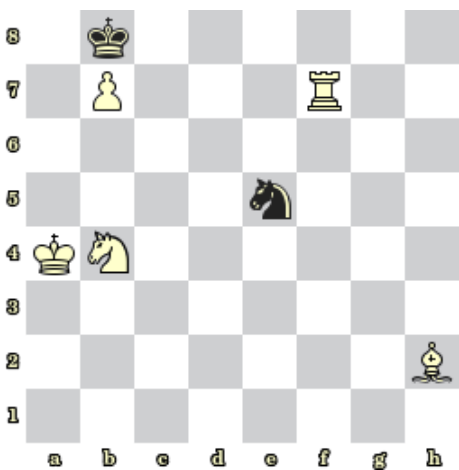


Diagram 5 – Bílý na tahu dá mat 1. tahem

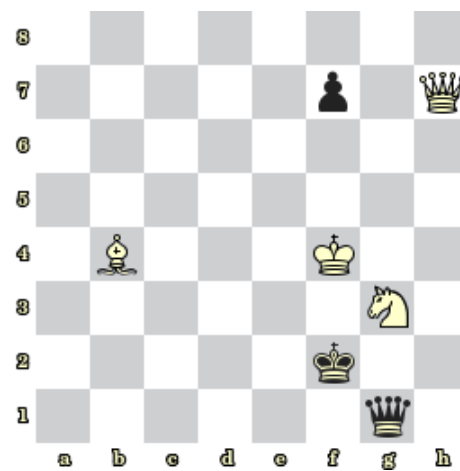


Diagram 6 – Bílý na tahu dá mat 1. tahem



Diagram 7 – Bílý na tahu získá černou dámu




Diagram 8 – Bílý na tahu získá černou dámu

Bonusové diagramy



Diagram 9 – Bílý na tahu dá mat 2. tahem




Diagram 10 – Bílý na tahu dá mat 2. tahem