

Sada diagramů č. 22c - Zadání 21. 4. 2016 / Kontrola 28. 4. 2016




Diagram 1 – Bílý na tahu dá mat 1. tahem




Diagram 2 – Bílý na tahu dá mat 1. tahem




Diagram 3 – Bílý na tahu dá mat 1. tahem




Diagram 4 – Bílý na tahu dá mat 1. tahem



Diagram 5 – Bílý na tahu dá mat 1. tahem



Diagram 6 – Černý na tahu dá mat 1. tahem



Diagram 7 – Bílý na tahu dá mat 1. tahem




Diagram 8 – Bílý na tahu dá mat 1. tahem

Bonusové diagramy




Diagram 9 – Bílý na tahu dá mat 2. tahem



Diagram 10 – Bílý na tahu dá mat 2. tahem