

Sada diagramů č. 24b - Zadání 5. 5. 2016 / Kontrola 12. 5. 2016




Diagram 1 – Černý na tahu. Najděte matový útok




Diagram 2 – Bílý na tahu. Najděte matový útok



Diagram 3 – Bílý na tahu. Najděte matový útok



Diagram 4 – Černý na tahu. Najděte matový útok



Diagram 5 – Černý na tahu vyhraje



Diagram 6 – Bílý na tahu vyhraje




Diagram 7 – Bílý na tahu vyhraje



Diagram 8 – Černý na tahu vyhraje

Bonusové diagramy



Diagram 9 – Černý na tahu vyhraje



Diagram 10 – Bílý na tahu vyhraje