

Sada diagramů č. 29a - Zadání 9. 6. 2016 / Kontrola 16. 6. 2016



Diagram 1 – Bílý na tahu dá mat 2. tahem




Diagram 2 – Bílý na tahu dá mat 2. tahem



Diagram 3 – Černý na tahu dá mat 2. tahem

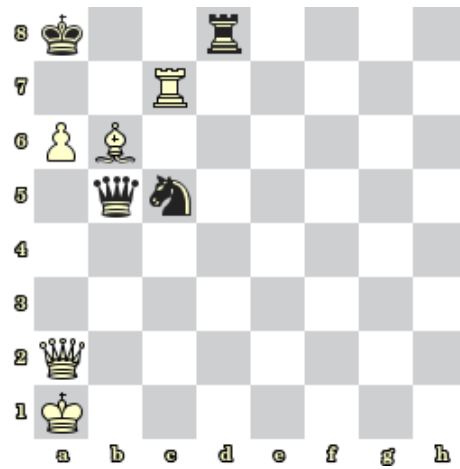


Diagram 4 – Bílý na tahu dá mat 2. tahem



Diagram 5 – BNT. Najděte matovou kombinaci



Diagram 6 – BNT. Najděte matovou kombinaci



Diagram 7 – BNT. Najděte matovou kombinaci



Diagram 8 – BNT. Najděte matovou kombinaci

Bonusové diagramy



Diagram 9 – Černý na tahu vyhraje




Diagram 10 – Bílý na tahu vyhraje