

Sada diagramů č. 29b - Zadání 9. 6. 2016 / Kontrola 16. 6. 2016



Diagram 1 – BNT. Najděte matový útok



Diagram 2 – BNT. Najděte matový útok



Diagram 3 – BNT. Najděte matový útok




Diagram 4 – BNT. Najděte matový útok



Diagram 5 – Černý na tahu vyhraje




Diagram 6 – Bílý na tahu vyhraje



Diagram 7 – Černý na tahu vyhraje




Diagram 8 – Bílý na tahu vyhraje

### Bonusové diagramy




Diagram 9 – BNT. Najděte matovou kombinaci




Diagram 10 – BNT. Najděte matovou kombinaci