

Sada diagramů č. 29c - Zadání 9. 6. 2016 / Kontrola 16. 6. 2016




Diagram 1 – Černý na tahu dá mat 1. tahem




Diagram 2 – Černý na tahu dá mat 1. tahem



Diagram 3 – Černý na tahu dá mat 1. tahem



Diagram 4 – Černý na tahu dá mat 1. tahem




Diagram 5 – Bílý na tahu dá mat 1. tahem



Diagram 6 – Bílý na tahu dá mat 2. tahem




Diagram 7 – Bílý na tahu dá mat 2. tahem



Diagram 8 – Bílý na tahu dá mat 2. tahem

Bonusové diagramy



Diagram 9 – Černý na tahu dá mat 2. tahem

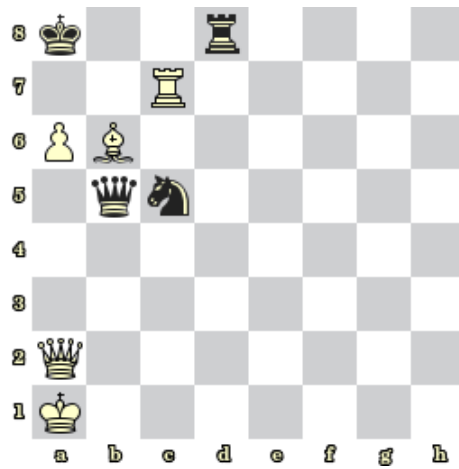


Diagram 10 – Bílý na tahu dá mat 2. tahem