

Sada diagramů č. 2b - Zadání 8. 10. 2015 / Kontrola 15. 10. 2015



Diagram 1 - Bílý na tahu dá mat 2. tahem




Diagram 2- Bílý na tahu. Jak skončí partie?



Diagram 3 - Bílý na tahu vyhraje




Diagram 4 - Bílý na tahu vyhraje




Diagram 5 – Bílý na tahu vyhraje



Diagram 6 – Bílý na tahu vyhraje




Diagram 7 – Černý na tahu vyhraje

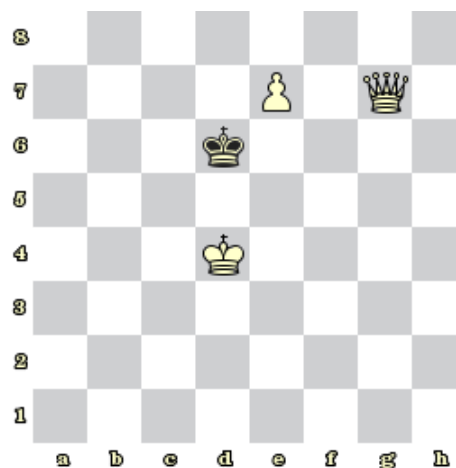


Diagram 8 – Bílý na tahu dá mat 2. tahem

Bonusové diagramy




Diagram 9 - Bílý na tahu dá mat 2. tahem




Diagram 10 – Bílý na tahu dá mat 2. tahem