





Sada diagramů č. 6b - Zadání 12. 11. 2015 / Kontrola 19. 11. 2015

 <p style="text-align: center;"><i>Diagram 1 - Černý na tahu</i></p>	<p>1-1) Po 1...Sb1-f5, ...</p>
	<p>a) černý vítězí b) černá pozice je lepší c) pozice je téměř rovná d) bílý vítězí</p>
	<p>1-2) Po 1...Sb1-e4, ...</p>
<p>a) černý vítězí b) černá pozice je lepší c) pozice je téměř rovná d) bílý vítězí</p>	

 <p style="text-align: center;"><i>Diagram 2</i></p>	<p>2-1) Černý na tahu. Jaký je nejlepší tah?</p>
	<p>a) 1...Qb6-a5 b) 1...Qb6-b4 c) 1...Qb6-b1+ d) 1...Qb6-e6</p>
	<p>2-2) Bílý na tahu. Po 1.Je3xc2, ...</p>
<p>a) černý vítězí b) černá pozice je lepší c) pozice je téměř rovná d) bílý vítězí</p>	

 <p style="text-align: center;">Diagram 3</p>	<p>3-1) Bílý na tahu. Jaký je nejlepší tah?</p> <p>a) 1.Dc4-f7 b) 1.Dc4xg8+ c) 1.Va7-h7+ d) 1.Va7-a2</p>
	<p>3-2) Černý na tahu. Jaký je nejlepší tah?</p> <p>a) 1...Vb2xe2 b) 1...h5-h4 c) 1...f5-f4 d) 1...Dg5-g4+</p>

 <p style="text-align: center;">Diagram 4 – Bílý na tahu</p>	<p>4-1) Po 1.Je3-f5, ...</p> <p>a) bílá pozice je mírně lepší b) bílý má skvělé šance na výhru c) bílý vyhrává kvůli matové hrozbě d) černý může vyrovnat</p>
	<p>4-2) Po 1.Je3-d5, ...</p> <p>a) bílá pozice je mírně lepší b) bílý má skvělé šance na výhru c) bílý vyhrává kvůli matové hrozbě d) černý může vyrovnat</p>