





Sada diagramů č. 8b - Zadání 26. 11. 2015 / Kontrola 5. 12. 2015

 <p style="text-align: center;"><i>Diagram 9</i></p>	9-1) Pokud je bílý na tahu, bude hrát
	<ul style="list-style-type: none"> <li>a) Va6-a7</li> <li>b) Va6xe6</li> <li>c) oba tahy můžou být zahrány</li> <li>d) ani jeden tah nemůže být zahrán</li> </ul>
	9-2) Po <b>1...Kg7-g6</b> bude bílý hrát
	<ul style="list-style-type: none"> <li>a) Va6-a7</li> <li>b) Ve7-d7</li> <li>c) oba tahy můžou být zahrány</li> <li>d) ani jeden tah nemůže být zahrán</li> </ul>

 <p style="text-align: center;"><i>Diagram 10 – Černý na tahu</i></p>	10-1) Kolik různých hrozeb má bílý?
	<ul style="list-style-type: none"> <li>a) žádnou</li> <li>b) 1 hrozbu</li> <li>c) 2 hrozby</li> <li>d) 3 hrozby</li> </ul>
	10-2) Po <b>1...o-o-o</b> , jaký je vyhrávající tah?
	<ul style="list-style-type: none"> <li>a) 2.Ve1xe5</li> <li>b) 2.Sd3-a6+</li> <li>c) obě možnosti a) i b) vyhrávají</li> <li>d) něco jiného než a) nebo b)</li> </ul>

 <p style="text-align: center;">Diagram 11</p>	11-1) Bílý na tahu. Jaký je <b>nejlepší</b> tah?
	<ul style="list-style-type: none"> <li>a) 1.Sf3-g2</li> <li>b) 1.Sb2xe5</li> <li>c) 1.Vc1xc5</li> <li>d) 1.a4-a5</li> </ul>
	11-2) Černý na tahu. Jaký je <b>nejlepší</b> tah?
<ul style="list-style-type: none"> <li>a) 1...Sc5xe3</li> <li>b) 1...Je5xf3+</li> <li>c) 1...Je5-d3</li> <li>d) 1...Vd8-d2</li> </ul>	

 <p style="text-align: center;">Diagram 12 – Černý na tahu</p>	12-1) Po <b>1...Df6-f3</b> , ...
	<ul style="list-style-type: none"> <li>a) černý vítězí</li> <li>b) černá pozice je lepší</li> <li>c) pozice je téměř rovná</li> <li>d) bílý vítězí</li> </ul>
	12-2) Po <b>1...g7-g6 2.a2-a3 Df6-f3</b> , ...
<ul style="list-style-type: none"> <li>a) černý vítězí</li> <li>b) černá pozice je lepší</li> <li>c) pozice je téměř rovná</li> <li>d) bílý vítězí</li> </ul>	