

Sada diagramů č. 9a - Zadání 3. 12. 2015 / Kontrola 10. 12. 2015



Diagram 1 – Bílý na tahu dá mat 2. tahem




Diagram 2- Černý na tahu dá mat 2. tahem



Diagram 3 - Bílý na tahu dá mat 2. tahem




Diagram 4 – Bílý na tahu dá mat 2. tahem



Diagram 5 – Černý na tahu dá mat 2. tahem




Diagram 6 – Černý na tahu dá mat 2. tahem




Diagram 7 - Bílý na tahu dá mat 2. tahem



Diagram 8 – Černý na tahu dá mat 2. tahem

Bonusové diagramy




Diagram 9 – Bílý na tahu vyhraje




Diagram 10 – Bílý na tahu vyhraje