




Sada diagramů č. 9b - Zadání 3. 12. 2015 / Kontrola 10. 12. 2015

 <p style="text-align: center;"><i>Diagram 13 – Bílý na tahu</i></p>	<p>13-1) Po 1.Vf1xf6, ...</p> <p>a) černý vítězí b) remíza je pravděpodobná c) bílý pozice je lepší d) bílý vítězí</p>
	<p>13-2) Po 1.Sf7-a2 Vd8-a8 2.Vf1xf6, ...</p> <p>a) černý vítězí b) remíza je pravděpodobná c) bílý pozice je lepší d) bílý vítězí</p>

 <p style="text-align: center;"><i>Diagram 14 – Černý na tahu</i></p>	<p>14-1) Jaký výsledek očekáváte?</p> <p>a) černý vítězí b) remíza je pravděpodobná c) bílý má drobné šance na výhru d) bílý vítězí</p>
	<p>14-2) Přidejme černého pěšce na d4. Nyní</p> <p>a) černý vítězí b) remíza je pravděpodobná c) bílý má drobné šance na výhru d) bílý vítězí</p>

 <p style="text-align: center;"><i>Diagram 15 – Bílý na tahu</i></p>	15-1) Jaký je nejhorší tah?
	a) 1.Sb2-a3 b) 1.Sb2-c1 c) 1.Sb2-a1 d) 1.d5-d6
	15-2) Po 1.Sb2xc3+ , ...
a) černý vítězí b) remíza je pravděpodobná c) bílý pozice je lepší d) bílý vítězí	

 <p style="text-align: center;"><i>Diagram 16 – Bílý na tahu</i></p>	12-1) Po 1.Vf4xf7 , ...
	a) černý vítězí b) černá pozice je lepší c) bílá pozice je lepší d) bílý vítězí
	12-2) Jaký je nejhorší tah?
a) 1.Jd5-f6 b) 1.Vf4-d4 c) 1.Vf4-g4 d) obě možnosti b) i c) jsou špatné	