



Sada diagramů č. 10c - Zadání 8. 12. 2016 / Kontrola 15. 12. 2016



1) ČNT – Najděte matovou kombinaci (995)



2) Bílý na tahu vyhraje (998)



3) BNT – Najděte matovou kombinaci (999)



4) BNT – Najděte matovou kombinaci (1001)




5) ČNT – Najděte matovou kombinaci (1002)



6) BNT – Najděte matovou kombinaci (1003)



7) BNT – Najděte matovou kombinaci (1008)

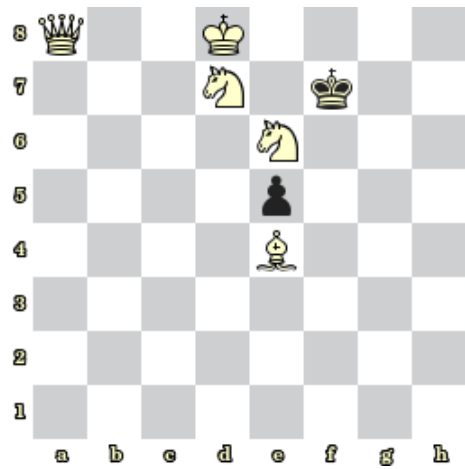


8) ČNT – Najděte matovou kombinaci (1009)

Bonusové diagramy



9) Bílý na tahu dá mat 3. tahem (1012)



10) Bílý na tahu dá mat 2. tahem (1013)