


Sada diagramů č. 11b – Zadání 15. 12. 2016 / Kontrola 5. 1. 2017



1) BNT – Najděte matovou kombinaci (1014)




2) BNT – Najděte matovou kombinaci (1015)



3) BNT – Najděte matovou kombinaci (1017)



4) ČNT – Najděte matovou kombinaci (1018)




5) ČNT – Najděte matovou kombinaci (1022)



6) BNT – Najděte matovou kombinaci (1025)

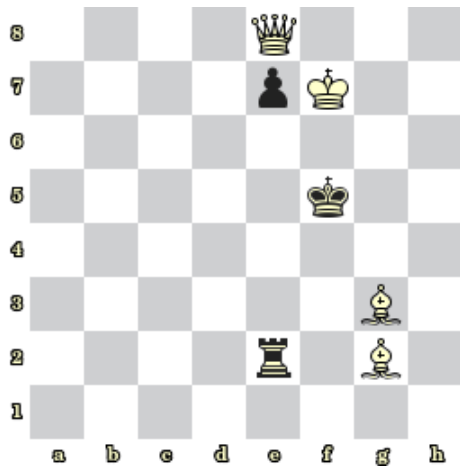


7) BNT – Najděte matovou kombinaci (1030)

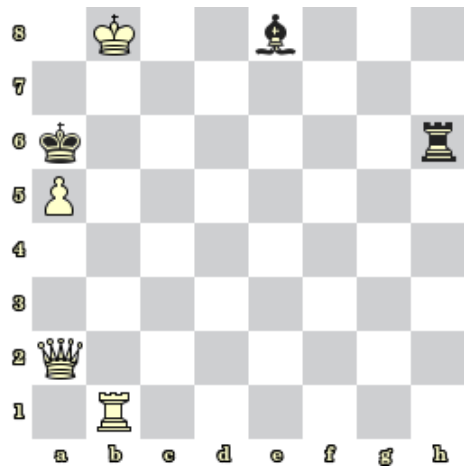


8) BNT – Najděte matovou kombinaci (1031)

### Bonusové diagramy



9) BNT – Mat 2. tahem (1034)



10) BNT – Mat 2. tahem (1035)