


Sada diagramů č. 12a - Zadání 12. 1. 2017 / Kontrola 19. 1. 2017



1) Bílý na tahu dá mat 1. tahem (1051)



2) Bílý na tahu dá mat 1. tahem (1058)




3) Bílý na tahu dá mat 1. tahem (1059)



4) Bílý na tahu dá mat 1. tahem (1060)




5) Bílý na tahu dá mat 1. tahem (1061)



6) Bílý na tahu dá mat 1. tahem (1062)




7) Bílý na tahu dá mat 1. tahem (1063)




8) Bílý na tahu dá mat 1. tahem (1064)

Bonusové diagramy



9) Bílý na tahu dá mat 2. tahem (1015)



10) Bílý na tahu dá mat 2. tahem (1047)