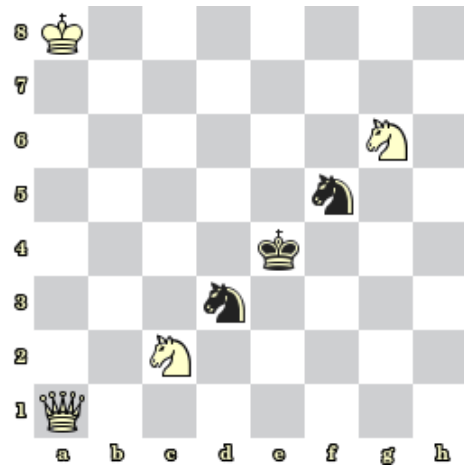


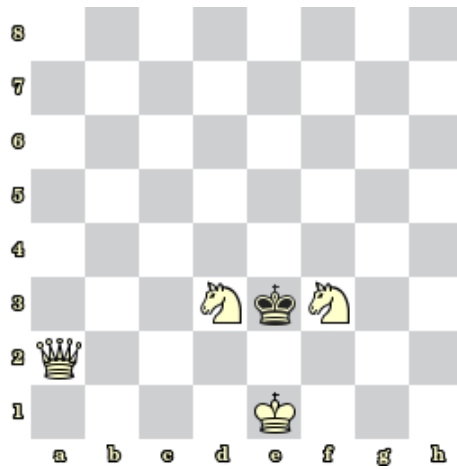
Sada diagramů č. 13a - Zadání 19. 1. 2017 / Kontrola 26. 1. 2017




1) Bílý na tahu dá mat 1. tahem (338)



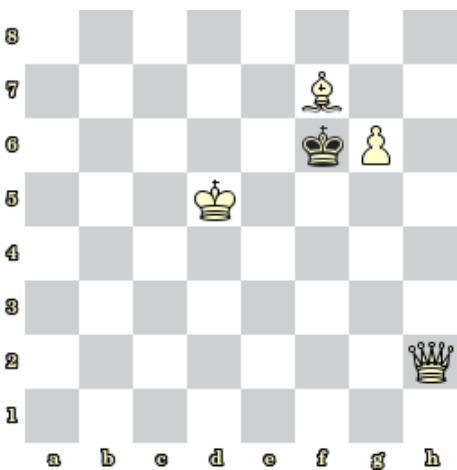
2) Bílý na tahu dá mat 1. tahem (1058)




3) Bílý na tahu dá mat 1. tahem (1082)



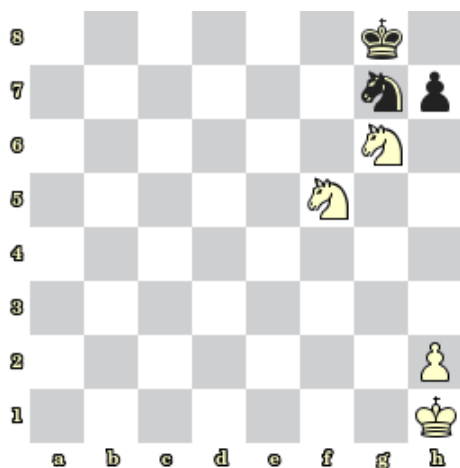
4) Bílý na tahu dá mat 1. tahem (1083)




5) Bílý na tahu dá mat 1. tahem (1084)



6) Bílý na tahu dá mat 1. tahem (1085)



7) Bílý na tahu dá mat 1. tahem (1086)



8) Bílý na tahu dá mat 1. tahem (1087)

Bonusové diagramy



9) Černý na tahu dá mat 2. tahem (1067)



10) Černý na tahu dá mat 2. tahem (1077)