



Sada diagramů č. 16b – Zadání 9. 2. 2017 / Kontrola 16. 2. 2017



1) Bílý na tahu dá mat 1. tahem (1146)




2) Černý na tahu dá mat 2. tahem (1149)




3) Bílý na tahu dá mat 3. tahem (1150)



4) Bílý na tahu dá mat 2. tahem (1151)



5) ČNT – najděte matovou kombinaci (1152)



6) BNT – najděte matovou kombinaci (1153)




7) BNT – Najděte matovou kombinaci (1154)



8) BNT – Najděte matovou kombinaci (1155)

Bonusové diagramy



9) BNT – najděte matovou kombinaci (1156)



10) BNT – najděte matovou kombinaci (1157)