


Sada diagramů č. 17c - Zadání 16. 2. 2017 / Kontrola 23. 2. 2017



1) BNT – Najděte matovou kombinaci (1182)



2) Bílý na tahu vyhraje (1183)




3) BNT – najděte matovou kombinaci (1184)




4) Černý na tahu vyhraje (1185)



5) BNT – Najděte matovou kombinaci (1186)



6) Bílý na tahu vyhraje (1187)




7) Bílý na tahu vyhraje (1188)




8) BNT – Najděte matovou kombinaci (1189)

Bonusové diagramy



9) Bílý na tahu vyhraje (1190)



10) Bílý na tahu vyhraje (1191)