


Sada diagramů č. 1b - Zadání 22. 9. 2016 / Kontrola 29. 9. 2016




1) Bílý na tahu dá mat 2. tahem (796)



2) Bílý na tahu dá mat 2. tahem (808)



3) Bílý na tahu dá mat 2. tahem (809)




4) Bílý na tahu dá mat 2. tahem (802)




5) Bílý na tahu dá mat 2. tahem (804)



6) Bílý na tahu dá mat 2. tahem (801)




7) Bílý na tahu dá mat 2. tahem (807)




8) Bílý na tahu dá mat 2. tahem (805)

Bonusové diagramy



9) BNT – Najděte matovou kombinaci (798)



10) BNT – Najděte matovou kombinaci (797)