



Sada diagramů č. 22a - Zadání 20. 4. 2017 / Kontrola 27. 4. 2017




1) Černý na tahu dá mat 1. tahem (1321)



2) Bílý na tahu dá mat 1. tahem (1322)




3) Bílý na tahu dá mat 1. tahem (1323)



4) Bílý na tahu dá mat 2. tahem (1324)




5) Černý na tahu dá mat 2. tahem (1325)



6) Bílý na tahu dá mat 2. tahem (1326)



7) Bílý na tahu dá mat 2. tahem (1327)




8) Bílý na tahu dá mat 2. tahem (1328)

Bonusové diagramy



9) Bílý na tahu dá mat 3. tahem (1329)



10) Bílý na tahu dá mat 3. tahem (1330)