



Sada diagramů č. 2b - Zadání 29. 9. 2016 / Kontrola 6. 10. 2016




1) BNT – Najděte matovou kombinaci (823)




2) BNT – Najděte matovou kombinaci (825)



3) BNT – Najděte matovou kombinaci (826)




4) BNT – Najděte matovou kombinaci (828)



5) BNT – Najděte matovou kombinaci (829)



6) BNT – Najděte matovou kombinaci (830)




7) BNT – Najděte matovou kombinaci (831)



8) BNT – Najděte matovou kombinaci (832)

Bonusové diagramy



9) BNT – Najděte matovou kombinaci (837)



10) BNT – Najděte matovou kombinaci (838)