



Sada diagramů č. 4a - Zadání 13. 10. 2016 / Kontrola 20. 10. 2016



1) Bílý na tahu dá mat 1. tahem (32)



2) Bílý na tahu dá mat 1. tahem (33)



3) Černý na tahu dá mat 1. tahem (34)



4) Bílý na tahu dá mat 1. tahem (52)




5) Černý na tahu dá mat 1. tahem (53)



6) Černý na tahu dá mat 1. tahem (54)



7) Bílý na tahu dá mat 1. tahem (56)




8) Bílý na tahu dá mat 1. tahem (879)

Bonusové diagramy



9) Černý na tahu dá mat 1. tahem (878)



10) Bílý na tahu dá mat 1. tahem (888)