


Sada diagramů č. 4b - Zadání 13. 10. 2016 / Kontrola 20. 10. 2016



1) BNT – Najděte matovou kombinaci (868)



2) BNT – Najděte matovou kombinaci (869)



3) BNT – Najděte matovou kombinaci (870)



4) BNT – Najděte matovou kombinaci (889)




5) BNT – Najděte matovou kombinaci (871)



6) BNT – Najděte matovou kombinaci (872)




7) BNT – Najděte matovou kombinaci (874)



8) BNT – Najděte matovou kombinaci (873)

Bonusové diagramy



9) BNT – Najděte matovou kombinaci (877)



10) BNT – Najděte matovou kombinaci (886)