



Sada diagramů č. 5b - Zadání 20. 10. 2016 / Kontrola 3. 11. 2016




1) BNT – Najděte matovou kombinaci (893)



2) BNT – Najděte matovou kombinaci (894)




3) BNT – Najděte matovou kombinaci (903)



4) BNT – Najděte matovou kombinaci (904)




5) BNT – Najděte matovou kombinaci (908)



6) BNT – Najděte matovou kombinaci (909)



7) BNT – Najděte matovou kombinaci (911)



8) BNT – Najděte matovou kombinaci (910)

Bonusové diagramy



9) BNT – Najděte matovou kombinaci (907)



10) BNT – Najděte matovou kombinaci (914)