


Sada diagramů č. 5c - Zadání 20. 10. 2016 / Kontrola 3. 11. 2016



1) BNT – Najděte matovou kombinaci (897)




2) BNT – Najděte matovou kombinaci (898)



3) BNT – najděte matovou kombinaci (905)



4) BNT – Najděte matovou kombinaci (910)




5) ČNT vyhraje. Napište varianty (901)



6) BNT vyhraje. Napište varianty (902)




7) BNT – Najděte matovou kombinaci (907)

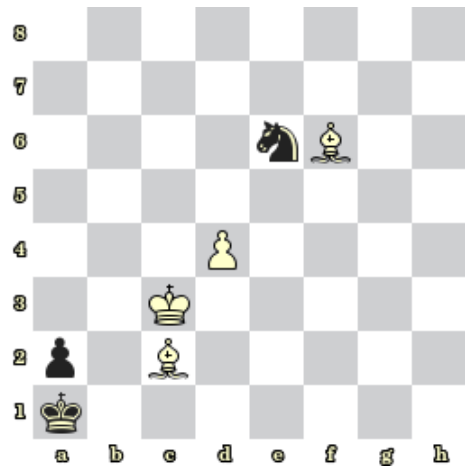


8) BNT – Najděte matovou kombinaci (906)

Bonusové diagramy



9) BNT – Mat 2. tahem (915)



10) BNT – Mat 2. tahem (916)