

Sada diagramů č. 6b - Zadání 3. 11. 2016 / Kontrola 10. 11. 2016




1) BNT – Najděte matovou kombinaci (2)



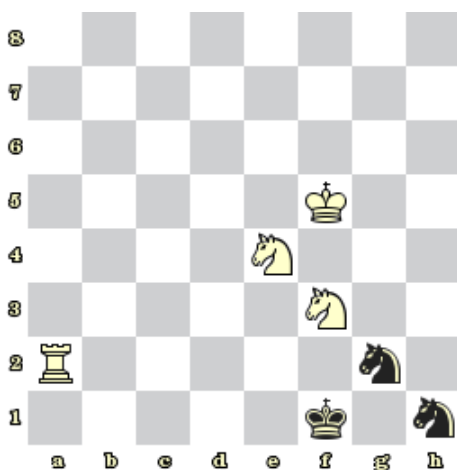
2) BNT – Najděte matovou kombinaci (3)




3) BNT – Najděte matovou kombinaci (5)



4) ČNT – Najděte matovou kombinaci (6)



5) BNT – Najděte matovou kombinaci (7)



6) BNT – Najděte matovou kombinaci (41)




7) BNT – Jak získat materiál? (923)



8) BNT – Jak získat materiál? (924)

Bonusové diagramy



9) ČNT – Najděte matovou kombinaci (60)



10) ČNT – Najděte matovou kombinaci (65)