


Sada diagramů č. 7c - Zadání 10. 11. 2016 / Kontrola 17. 11. 2016




1) BNT – Najděte matovou kombinaci (935)



2) BNT – Najděte matovou kombinaci (940)



3) BNT – Najděte matovou kombinaci (943)



4) Bílý na tahu vyhraje (945)




5) ČNT – najděte matovou kombinaci (946)



6) Bílý na tahu vyhraje (938)




7) Bílý na tahu vyhraje (948)




8) BNT – Najděte matovou kombinaci (951)

Bonusové diagramy



9) BNT vyhraje. Napište varianty (944)



10) ČNT vyhraje. Napište varianty (950)