


Sada diagramů č. 8b – Zadání 24. 11. 2016 / Kontrola 1. 12. 2016




1) ČNT – Najděte matovou kombinaci (952)



2) ČNT – Najděte matovou kombinaci (953)



3) BNT – Najděte matovou kombinaci (955)




4) BNT – Najděte matovou kombinaci (958)




5) BNT – Najděte matovou kombinaci (959)



6) BNT – Najděte matovou kombinaci (960)




7) BNT – Najděte matovou kombinaci (965)




8) BNT – Najděte matovou kombinaci (968)

### Bonusové diagramy



9) BNT vyhraje. Napište varianty (971)



10) BNT vyhraje. Napište varianty (972)