

Sada diagramů č. 8c - Zadání 24. 11. 2016 / Kontrola 1. 12. 2016




1) ČNT – Najděte matovou kombinaci (954)



2) BNT – Najděte matovou kombinaci (955)




3) ČNT – Najděte matovou kombinaci (956)




4) BNT – Najděte matovou kombinaci (957)




5) BNT – najděte matovou kombinaci (960)



6) ČNT – Najděte matovou kombinaci (963)




7) BNT – Najděte matovou kombinaci (964)




8) BNT vyhraje. Napište varianty (966)

Bonusové diagramy



9) ČNT vyhraje. Napište varianty (967)



10) BNT vyhraje. Napište varianty (970)