


Sada diagramů č. 9c - Zadání 1. 12. 2016 / Kontrola 8. 12. 2016



1) BNT – Najděte matovou kombinaci (973)




2) ČNT – Najděte matovou kombinaci (976)



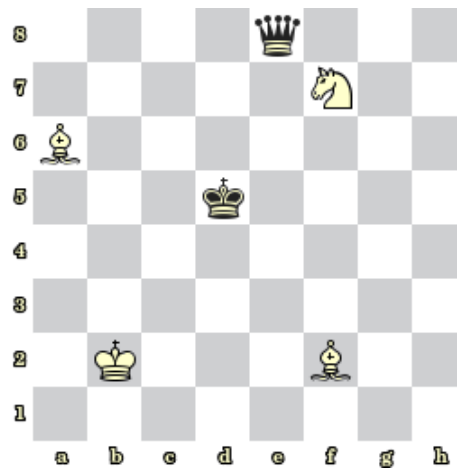
3) BNT – Najděte matovou kombinaci (977)



4) ČNT – Najděte matovou kombinaci (978)




5) Bílý na tahu vyhraje (985)



6) Bílý na tahu vyhraje (986)

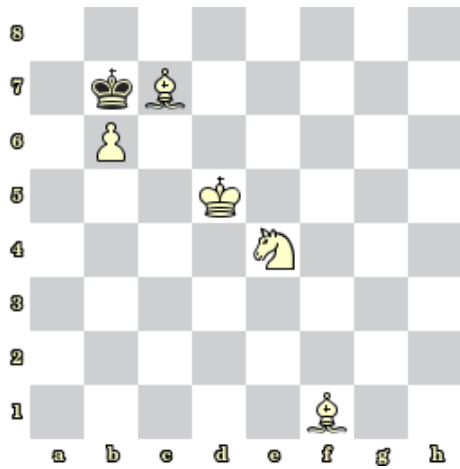


7) BNT – Najděte matovou kombinaci (981)

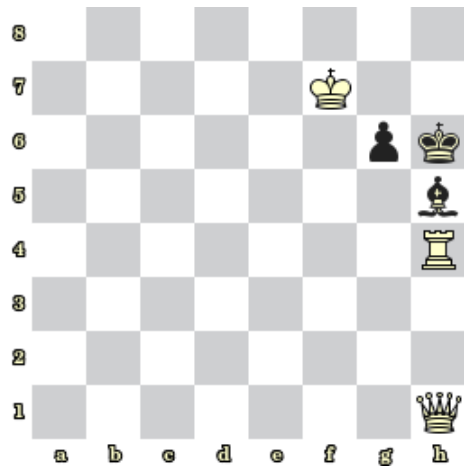


8) Bílý na tahu dá mat 2. tahem (982)

Bonusové diagramy



9) Bílý na tahu dá mat 2. tahem (983)



10) Bílý na tahu dá mat 2. tahem (984)